







PLCMEUR  
PLAÑVOUR

## CARTON DE CONTRÔLE

### CIRCUIT 1B - Initiation à l'orientation - Niveau 2

| N° Circuit | N° Balise | Poinçon        | Question   | Réponse  |
|------------|-----------|----------------|--|--|
| 1          | 31        | •<br>•<br>•    | En regardant les trois formes, laquelle est située au sud ?  |   |
| 2          | 32        | ••<br>••       | Quelle forme géométrique est située entre un arbre et une piste ?  |   |
| 3          | 33        | ••<br>••       | En examinant votre carte, identifiez l'élément dont la définition est incorrecte.  |   |
| 4          | 34        | ••<br>••<br>•• | En regardant les trois formes, laquelle est située à proximité d'une clôture infranchissable ?                                     |  |
| 5          | 35        | ••<br>••<br>•• | Détermine à quelle distance du poste d'observation n°35 se situe le triangle? Poinçonne ensuite la distance correcte sur ta carte. | 13 à 15m   |